

## **¡DALE AL COCO!**

Os proponemos **10 ejercicios de lógica matemática** con los que podéis poner a prueba las vuestras habilidades para razonar.

Los ejercicios van aumentando en dificultad del 1 al 10.

No es necesario que imprimas las actividades. Apunta las respuestas en un folio o en tu cuaderno.

Los resultados están al final de los ejercicios. ¡Pero no hagáis trampa! Intentad solucionarlos y cuando hayáis terminado los podéis mirar.

Cuéntanos si te ha gustado y si has sido capaz de solucionar estos ejercicios.

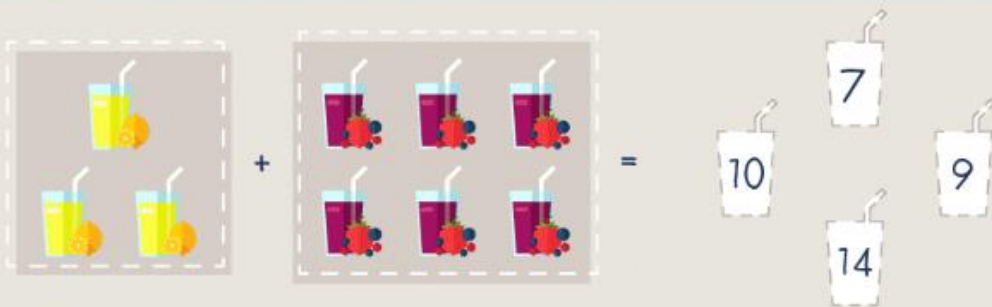
**¡DISFRUTAD!**

Podéis encontrar más recursos como este en:

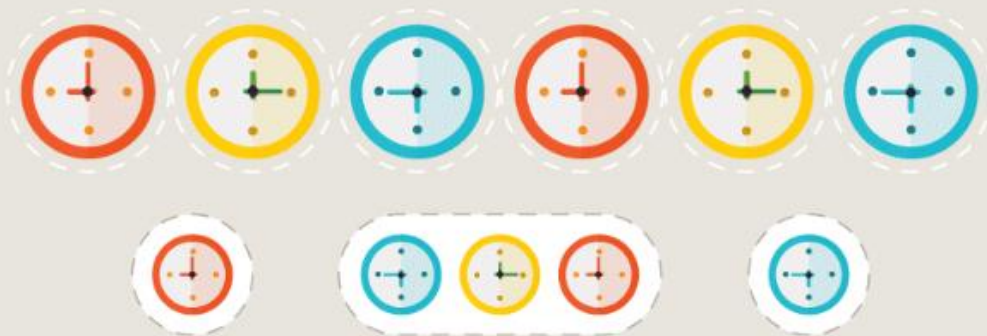
<https://www.supertics.com/blog/10-ejercicios-de-logica-matematica-para-ninos-de-primaria>

# ¡DALE AL COCO!

1 ¿CUÁNTOS ELEMENTOS SUMAN LOS DOS CONJUNTOS?



2 MARCA LA IMAGEN QUE SEGUIRÁ LA SERIE:



3 SELECCIONA LA RESPUESTA CORRECTA:

- EN UNA MESA DE LA CLASE CABEMOS 12 NIÑOS. SI HOY SOLO SOMOS 5, ¿CUÁNTOS NIÑOS NO HAN VENIDO?




12 NIÑOS

8 NIÑOS

17 NIÑOS

7 NIÑOS

4 ¿QUÉ FRUTAS HAN COMIDO EL MISMO NÚMERO DE NIÑOS?



¡DALE AL COCO!

5

SELECCIONA LA RESPUESTA CORRECTA:



.....  
PACO HA HECHO 4 GALLETAS  
Y TONI 10 GALLETAS MÁS QUE PACO.



¿CUÁNTAS GALLETAS HA HECHO TONI?  
.....



16 GALLETAS



3 GALLETAS



6 GALLETAS



14 GALLETAS

6

¿QUÉ IMAGEN SIGUE EN LA SERIE?



7

¿QUÉ NÚMERO NO SE CORRESPONDE CON LA SERIE?

1 7 9 6 11 13

13 1 6 9 11 7

## ¡DALE AL COCO!

8

SELECCIONA LA RESPUESTA CORRECTA:

SI CUATRO MANZANAS PESAN 400G., ¿CUÁNTO PESA CADA MANZANA?

800 GRAMOS.

100 GRAMOS.



400 GRAMOS.

200 GRAMOS.

9

MARCA LA SOLUCIÓN AL PROBLEMA PLANTEADO:

CON 4 CERILLAS HAGO UN CUADRADO.  
¿CUÁNTOS CUADRADOS HARÉ CON  
16 CERILLAS?



8 CUADRADOS

4 CUADRADOS

ENUNCIADO  
INCORRECTO

3 CUADRADOS

10

SELECCIONA LA RESPUESTA CORRECTA:



DOS PERSONAS SALIERON A PASEAR, EL MENOR  
ES HIJO DEL MAYOR, PERO EL MAYOR NO ES  
PADRE DEL MENOR. ENTONCES ¿QUIÉN ES?



SU ABUELA

SU ABUELO



SU TIO

SU MADRE

## SOLUCIONES

1. 9 ZUMOS  
2. RELOJ ROJO

3. 7 NIÑOS  
4. PLÁTANOS Y  
UVAS

5. 14 GALLETAS  
6. GAFAS

7. 6  
8. 100 GRAMOS

9. 4 CUADRADOS  
10. SU MADRE