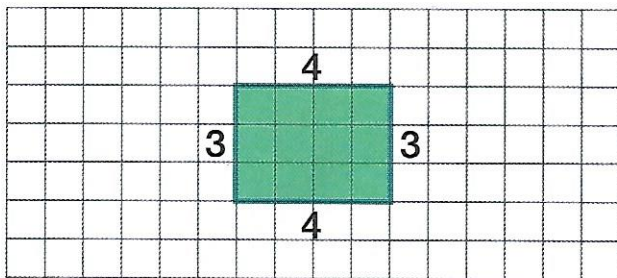


FICHA 8. El perímetro

Nombre _____ Fecha _____

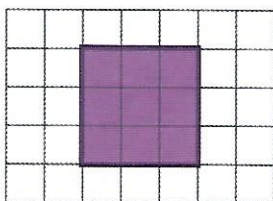
1 Observa la cuadrícula, cuenta y completa.



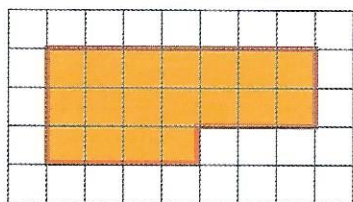
El **perímetro** de un polígono es la suma de todos sus lados.

$(4) + (3) + \square + \square = \square$ El perímetro del rectángulo mide \square .

2 Cuenta y calcula el perímetro de estos polígonos.



$\square + \square + \square + \square = \square$



$\square + \square + \square + \square + \square + \square = \square$

¿Podrías hacer una multiplicación para calcular el perímetro del cuadrado? ¿Por qué?

3 Busca en tu clase estos objetos y mide con palmos el perímetro de su superficie.

Una mesa ►

Un libro ►